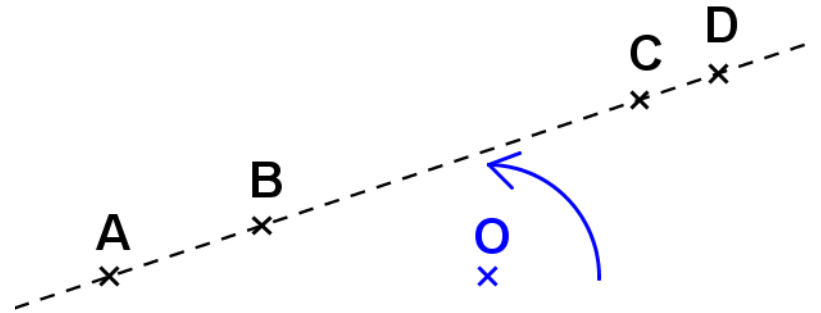
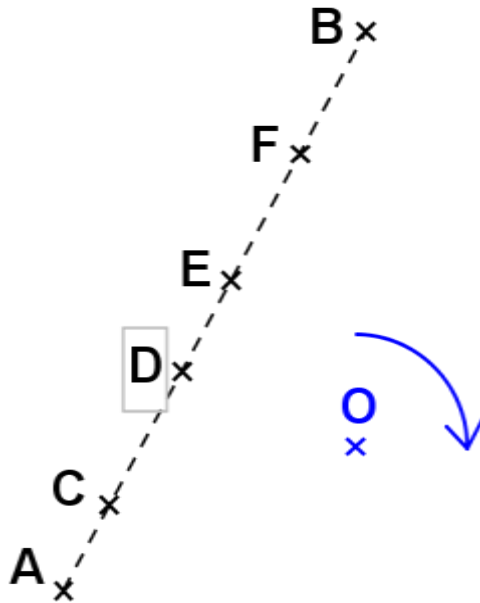


**ACTIVITE 2.1**

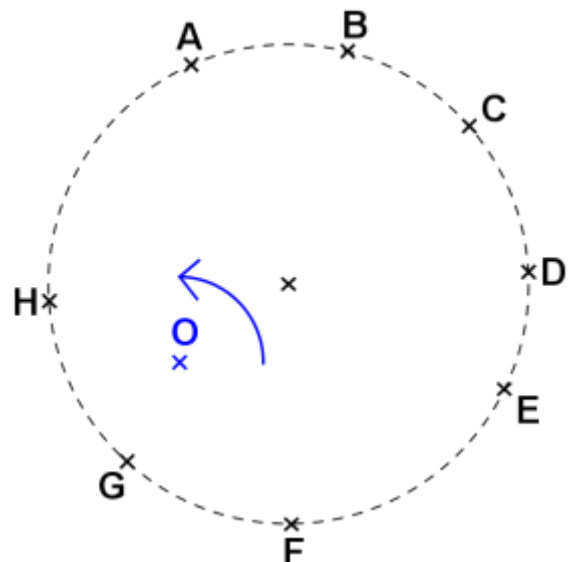
Construire les images des points A, B, C et D par la rotation de centre O et d'angle  $60^\circ$  dans le sens de la flèche :

**ACTIVITE 2.2**

Construire les images des points A, B, C, D, E et F par la rotation de centre O et d'angle  $45^\circ$  dans le sens de la flèche :

**ACTIVITE 2.3**

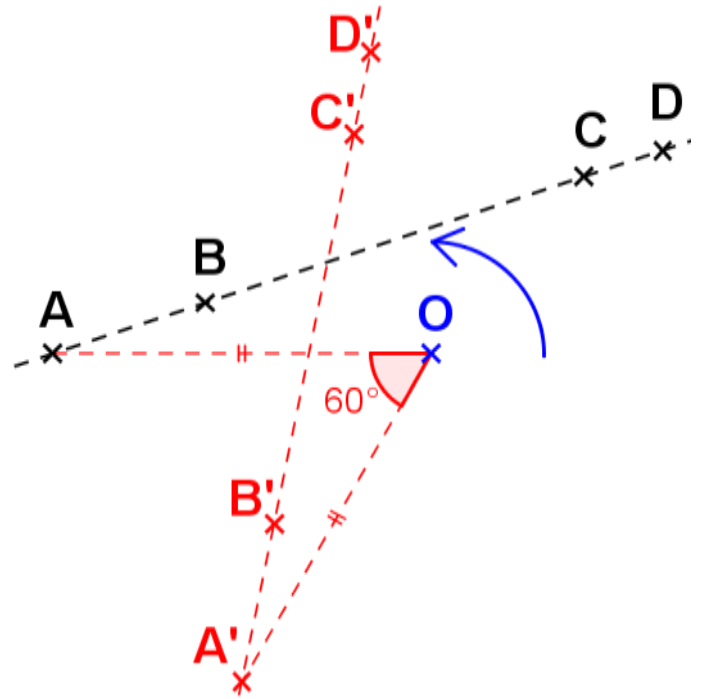
Construire les images des points A, B, C, D, E, F, G et H par la rotation de centre O et d'angle  $120^\circ$  dans le sens de la flèche :



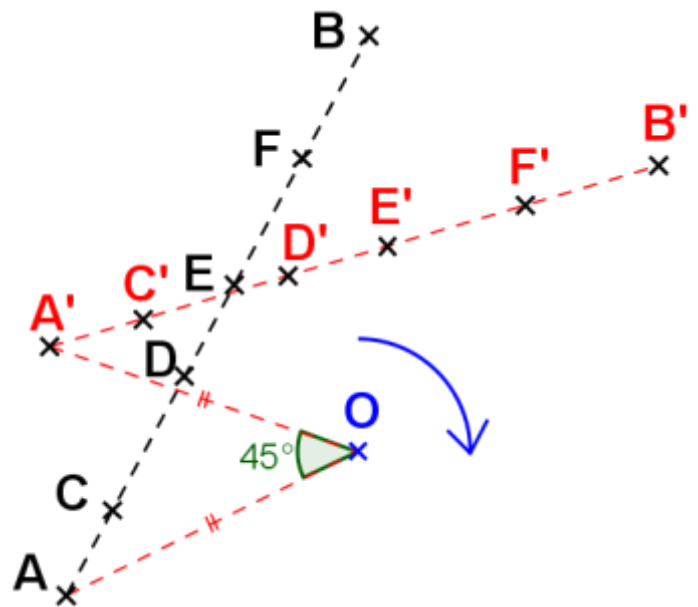
## CORRIGE - M. QUET

**ACTIVITE 2.1**

Construire les images des points A, B, C et D par la rotation de centre O et d'angle  $60^\circ$  dans le sens de la flèche :

**ACTIVITE 2.2**

Construire les images des points A, B, C, D, E et F par la rotation de centre O et d'angle  $45^\circ$  dans le sens de la flèche :

**ACTIVITE 2.3**

Construire les images des points A, B, C, D, E, F, G et H par la rotation de centre O et d'angle  $120^\circ$  dans le sens de la flèche :

